

Код участника ОБЗР 9-10

Всероссийская олимпиада школьников  
муниципальный этап

ОБЗР  
(предмет)

Олимпиадная работа

обучающегося 9 класса

МБОУ СШ №7 г.Волгодонска

Шишкин Илья Евгеньевич  
(ФИО полностью)

20.07.2010г.  
(дата рождения участника)

Бакланов Евгений Иванович  
(ФИО ПРЕПОДАВАТЕЛЯ полностью)

2025 год

053Р

Индивидуальный шифр участника

9 - 1 0

9 класс

ТЕОРЕТИЧЕСКИЙ ТУР (70 минут)

Задание № 1 оценивается в 5 баллов, № 2 – в 12 баллов, № 3 – в 10 баллов, № 4 – в 10 баллов, № 5 – в 15 баллов, № 6 – 18 баллов.

Максимальная оценка – 70 баллов.

Задание 1.

Дополните:

Издав 1 октября 1550 года Указ «Об  
испомещении в Московском и окружающих  
уездах избранной тысячи служилых людей»,  
Василий IV — заложил основы  
русской регулярной армии. Этим Указом  
было сформировано первое постоянное  
войско, имевшее признаки регулярной армии.



Максимальная оценка за правильно выполненное задание 5 баллов.

Задание 2.

Напишите, как насекомые помогают предсказывать погоду:

Мухи если они прячутся, то будет дождь

Комары прячутся при сильном ветре

Кузнечики

Пчёлы при плохой погоде прячутся

Стрекозы

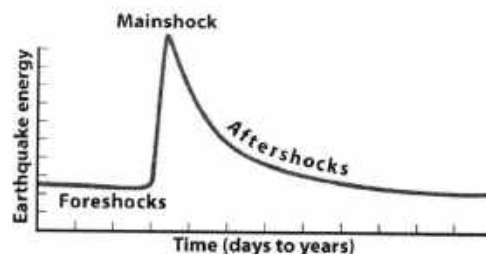
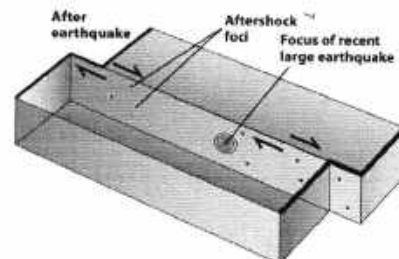
Муравьи

Максимальная оценка за правильно выполненное задание 12 баллов.

### Задание 3.

Охарактеризуйте, что такое афтершоки (3 балла), и чем они опасны (7 баллов):

Афтершоки – повторное землетрясение после первой волны. Оно опасно тем, что уже частично разрушенные здания разрушаются полностью. Они могут происходить в течение нескольких дней, недель и даже месяцев.



Максимальная оценка за правильно выполненное задание 10 баллов.

### Задание 4.

Укажите названия знаков и обозначений:



А




Б



В



Г



Д

- А Осторожно огонь ✓  
Б Высоко  
В Огнеопасно ✓  
Г запрещено разведение огня  
Д шланг для тушения огня

Максимальная оценка за правильно выполненное задание 10 баллов.

#### Задание 5.

Напишите, к каким последствиям может привести недостаточное освещение рабочего места:

1. Ухудшению зрения. ✓  
2. Ухудшению posture.  
3. \_\_\_\_\_  
4. \_\_\_\_\_  
5. \_\_\_\_\_






Максимальная оценка за правильно выполненное задание 15 баллов.

#### Задание 6.

«Собака друг человека». В то же время нередки случаи, когда «друг» становится «не другом».

Отметьте, какая порода является агрессивной, а какая нет, галочкой справа или слева от фотографии.

агрессивная	порода	не агрессивная
0	 <p>беспородная</p>	✓

0	 далматин	✓
0	 чау-чау	✓
✓ ✓	 чихуахуа	
✓	 колли	✓
0	 эскимосская лайка	✓

**Максимальная оценка за правильно выполненное задание 18 баллов**

ИТОГО БАЛЛОВ:

21

ПОДПИСИ ЧЛЕНОВ КОМИССИИ:

\_\_\_\_\_  
\_\_\_\_\_  
\_\_\_\_\_

063Р

Индивидуальный шифр

9 - 1 0

9 класс

ТЕСТИРОВАНИЕ (20 минут)

Тесты №№ 1-10 предусматривают выбор одного правильного ответа и оцениваются в 1 балл; №№ 11-20 – нескольких правильных ответов и оцениваются в 2 балла. Максимальная оценка – 30 баллов.

№ п/п	Тестовые задания	Ваш ответ	Макс балл	Кол-во баллов
<b>Определите ОДИН правильный ответ</b>				
1	<b>Что такое двухфакторная аутентификация?</b> а) дополнительный способ подтверждения личности б) вид компьютерной игры в) настройка электронной почты	а	1	/
2	<b>Какое требование предъявляется при строительстве убежища?</b> а) убежище должно иметь один вход б) убежище строится на незатопаемой территории в) высота потолков 1,7 метра г) оснащение стен свинцовой прослойкой д) наличие источника водоснабжения и системы очистки воды	б	1	/
3	<b>По каким критериям проводится классификация чрезвычайных ситуаций?</b> а) по масштабу их распространения и тяжести последствий б) по количеству задействованных людей в) по уровню реакции в мировом сообществе г) по длительности восстановительных работ	а	1	/
4	<b>Что представляет собой опасность при спасении человека на воде?</b> а) ныряние б) температура воды в) загрязнение воды г) захват спасателя тонущим	г	1	/
5	<b>Почему опасно во время землетрясения и после его пользоваться открытым огнем?</b> а) из-за возможности пожара б) из-за возможности утечки газа в) из-за эмоциональной нестабильности г) это считается плохой приметой	б	1	/
6	<b>Где должен быть заключен брак, чтобы его признали законным?</b> а) в ЗАГСе б) в церкви в) в ЗАГСе и церкви	а	1	/

7	<b>Какие регионы России наиболее подвержены цунами?</b> а) Восточное побережье Камчатки и Курильских островов б) Северо-Западный федеральный округ в) Северный Кавказ	а	1	1
8	<b>Какое опасное природное явление является геологическим?</b> а) смерч б) цунами в) зазор г) обвал	б	1	0
9	<b>Как называется ситуация, когда человек случайно, в силу независящих от него обстоятельств, оказывается в природной среде и вынужден самостоятельно обеспечивать свои жизненные потребности, чтобы выжить и вернуться к людям?</b> а) вынужденная автономия б) самореализация в) испытание г) автономное существование человека в природной среде	а	1	0
10	<b>Как нужно плыть, если ноги или руки свело судорогой?</b> а) на боку б) на спине в) на животе г) можно уже не плыть	б	1	1
<b>Определите НЕСКОЛЬКО правильных ответов</b>				
11	<b>Что из перечисленного рекомендуется делать для безопасности в интернете?</b> а) не использовать один и тот же пароль в разных аккаунтах б) раз в полгода менять интернет-провайдера в) иметь дубликаты всех важнейших документов и личных данных на яндекс-диске г) не открывать письма от незнакомых отправителей д) регулярно обновлять антивирусное ПО	а в д	2	2
12	<b>В каких случаях следует эвакуироваться самостоятельно?</b> а) при голосовании большинством голосов пострадавших б) при видимости незатопленной территории в) при угрозе ухудшения обстановки г) при необходимости медицинской помощи д) если закончились продукты и вода е) если ожидание помощи вызывает психологическое страдание	б в	2	0
13	<b>Как правильно себя вести при проваливании под лед?</b> а) осознать неправильность поведения, приведшего к этому, смириться и замереть б) выбираться, не вставая в) совершать резкие движения, барахтаться г) выбираться в сторону, откуда пришли	б г	2	2

14	<p><b>Что относится к взрывопожароопасным объектам?</b></p> <p>а) школы, не оборудованные бассейном б) предприятия, использующие взрывоопасны и легковоспламеняющиеся вещества в) железнодорожный транспорт г) трубопроводы д) библиотеки е) стадионы</p>	5 2 8	2	2
15	<p><b>Какие ситуации относятся к чрезвычайным ситуациям техногенного характера?</b></p> <p>а) пожары б) взрывы в) терроризм г) лесные пожары д) наркомания е) землетрясение</p>	5 5	2	2
16	<p><b>Что включает в себя призыв на военную службу?</b></p> <p>а) заседание призывной комиссии б) медицинское освидетельствование в) система физической подготовки к службе г) система психологической подготовки к службе д) нахождение в военном комиссариате для отправки к месту прохождения службы</p>	2 8	2	1
17	<p><b>Какие социальные процессы обеспечивают безопасность личности и общества?</b></p> <p>а) повышение уровня образования и культуры б) введение жестких ограничений свободы передвижения в) законодательная поддержка семьи и детства г) увеличение количества охранников в школах и учреждениях д) устойчивое экономическое развитие регионов</p>	2 2	2	0
18	<p><b>Какие меры предосторожности обязательны при эксплуатации бытовых приборов?</b></p> <p>а) использование заземленных розеток б) хранение электрических устройств рядом с источниками влаги в) своевременная замена изношенных проводов г) регулярная проверка технического состояния приборов д) прокладка электропроводов открытым способом</p>	2 6 2	2	2
19	<p><b>Какие признаки указывают на возможную угрозу террористического акта?</b></p> <p>а) появление подозрительных предметов или пакетов б) паника среди прохожих в) присутствие большого числа сотрудников полиции г) несоответствующее обстановке поведение людей д) громкий шум и хлопки неизвестного происхождения</p>	2 7	2	0



20	<p><b>Укажите сферы военного применения беспилотных летательных аппаратов (БПЛА):</b></p> <p>а) разведка б) поиск пропавших людей в) обнаружение целей и выполнение боевых задач г) метеорологические исследования д) аэрофотосъемка для получения красивых кадров</p>	<p>б а</p>	2	2
----	--	----------------	---	---

ИТОГО БАЛЛОВ: 21

ПОДПИСИ ЧЛЕНОВ КОМИССИИ:

